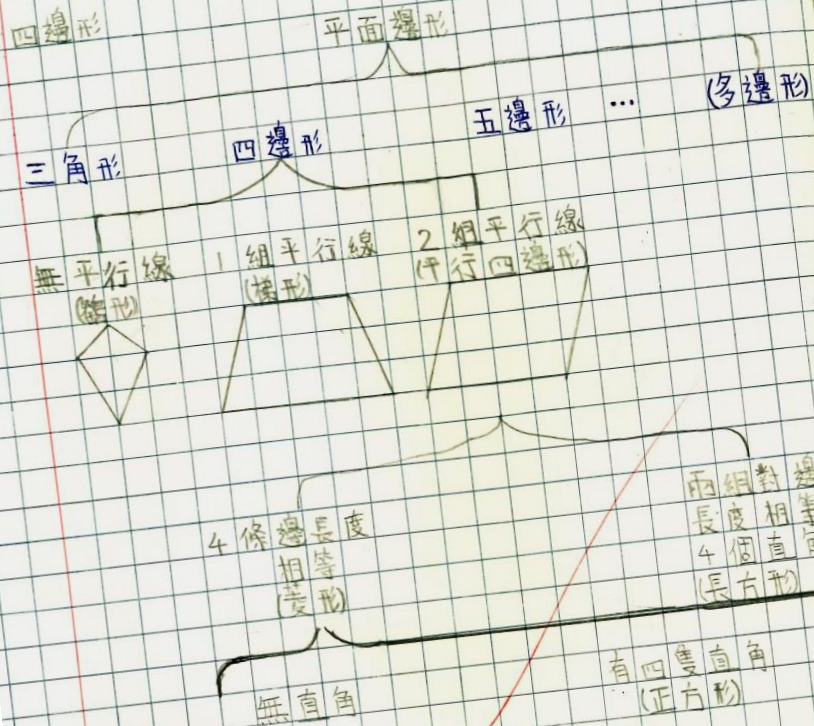


4A 徐清越

29-10-18



內容簡潔
整齊！
繪圖精美！


閱 3/10
家泰：[Signature]

4B 邱茵淳


10-12-2018

正方形周界

(-) 例題！



周界：
 2×4
 $= 8 (cm)$



eg. 2.



周界：
 $20 \div 4$
 $= 5 (cm)$



找周界：邊長 $\times 4$
找邊長：周界 $\div 4$

明白了！


有圖，有公式又有例題，
內容清晰易明！

4C 曾止妍

長方形周界(練習)

9-1-2019

長方形周界



$$\begin{aligned}
 & 2 \underline{\quad} + 2 \underline{\quad} \\
 & = 2 \times 10 + 2 \times 6 \\
 & = 20 + 12 \\
 & = \underline{32} \text{ (cm)}
 \end{aligned}$$

公式: $(\text{長} + \text{闊}) \times 2$

用不同顏色的線段, 代表長方形的長和闊, 能增加以長方形公式計算周界的記憶。

4D 俞安琪

EX. 13

13-11-2018

預習 格子兩位數乘兩位數

① $314 \times 7 = \underline{2198}$



用格子來計兩位數乘兩位數

② $742 \times 23 = \underline{17066}$



表達清晰!

Excellent

Excellent